

TRANI C.C. corsi A1-B1-C1-D1 ESERCIZI di GEOMETRIA e SCIENZE



ESERCIZI di GEOMETRIA

1 rispondi segnando con una crocetta vero o falso


- a. I lati del quadrato non sono tutti uguali.
- b. Un quadrato ha gli angoli uguali e retti
- c. Un quadrato ha le due diagonali uguali

V F
V F
V F


2 calcola il perimetro e l'area dei seguenti quadrati.



3 calcola il dato o i dati che mancano in ogni quadrato.



$l = 5,4 \text{ cm}$
 $p = \dots\dots\dots$
 $A = \dots\dots\dots$



$p = 56 \text{ cm}$
 $A = \dots\dots\dots$

4 compro un terreno a forma di quadrato a € 9 al metro quadrato. Il perimetro del terreno è 480 m. Quanto spendo in tutto?

ESERCIZI di SCIENZE

1 Completa.

Gli zuccheri servono per
e le proteine servono per

2 Quali sono le due funzioni dell'apparato digerente?

3 Completa con i termini corretti.

- a. Con la digestione gli alimenti si trasformano in
- b. Le sostanze nutritive passano dall'intestino al e poi vengono portate a tutte le

4 Completa con i termini corretti.

La digestione inizia in e finisce nel l'.....

5 Metti in ordine il viaggio del cibo.

intestino tenue / esofago / bocca / faringe
/ intestino crasso / stomaco
.....

6 Vero o falso?

- a. Le proteine si trovano nella carne. V F
- b. I denti aiutano la digestione. V F
- c. Le pareti dello stomaco sono fatte di strati di muscoli. V F